

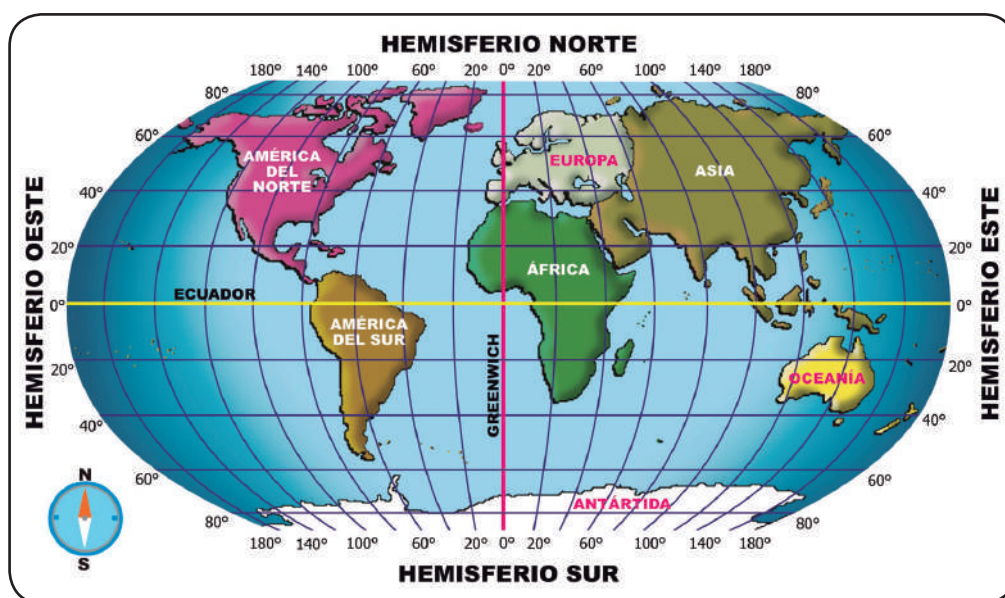


UBICACIÓN DEL PERÚ

1. Ubicación

A. Ubicación mundial

El Perú se ubica en la región sur – occidental del planeta tierra.



B. Ubicación matemática

1. Según el Ecuador Terrestre

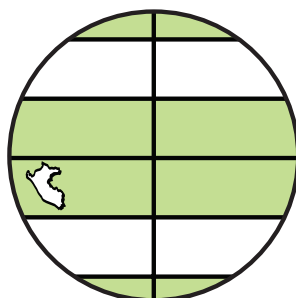
El Perú se ubica en el hemisferio sur, austral, meridional, marítimo o antártico

2. Según el Meridiano de Greenwich

El Perú se ubica en el hemisferio oeste, occidental o poniente

C. Ubicación térmica o climática

El Perú se ubica en la zona tropical o tórrida, que se halla comprendido entre el Ecuador terrestre y el trópico de Capricornio.



Ubicación del Perú según Zonas Climáticas

D. Ubicación continental

El Perú se ubica en América del Sur en la parte central y occidental.
Localiza al Perú en América del Sur.



2 Extensión

La superficie del territorio peruano comprende tanto el área continental, como el área marítima.

A. Superficie o Extensión Territorial:	1 285 215,60 km ²
B. Superficie Marítima:	626 240,00 km ²
C. Superficie Insular:	133,40 km ²
❖ Islas del Pacífico:	94,36 km ²
❖ Islas del Lago Titicaca:	39,04 km ²
D. Longitud del Litoral:	3 080,00 km
E. Longitud del Perímetro:	10 153,00 km

Posición del Perú en extensión

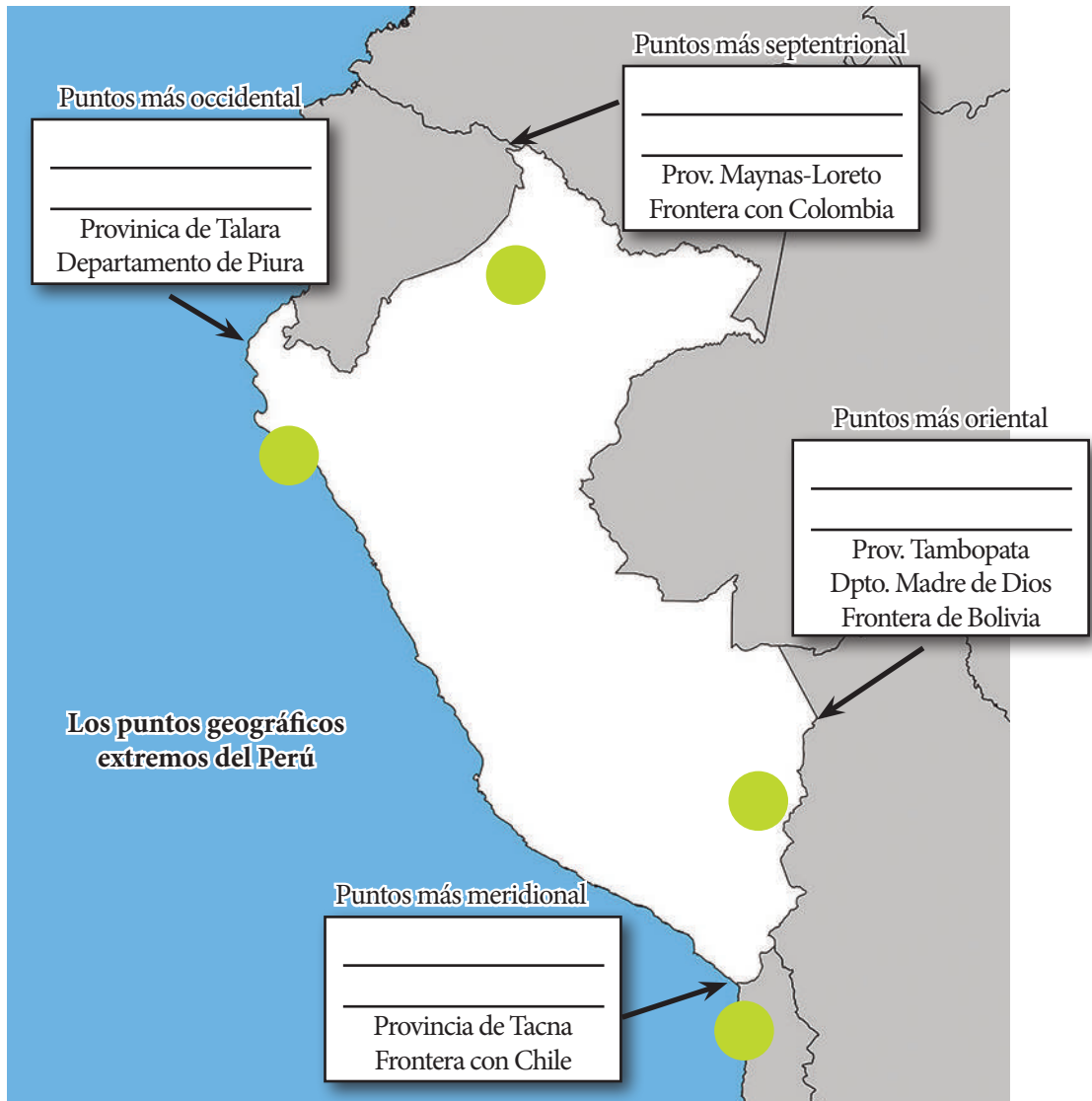
3° en Sudamérica
4° en Latinoamérica
6° en América
19° en el mundo

Superficie del Perú

Continental:	1 285 215,60 km ²
Marítima:	626 240,00 km ²
Total:	<hr/> 1 911 455,00 km ²

3. Puntos extremos del Perú

- ❖ 00°01'48" de Latitud Sur (Extremo Norte): talweg del río Putumayo, al norte de Güeppí (Loreto), frontera con Colombia.
- ❖ 18°21'03" de latitud Sur (Extremo Sur): Pascana del hueso, hito N° 1 de la Concordia (Tacna), frontera con Chile.
- ❖ 68°39'27" de longitud oeste (Extremo Oriental): Confluencia del río Heath con el río Madre de Dios (Madre de Dios), frontera con Bolivia.
- ❖ 81°19'34,5" de longitud oeste (Extremo Occidental): Punta Balcones, al sur de Talara (Piura), a orillas del Océano Pacífico.



4. Límites y tratados fronterizos

Norte:

- ❖ Ecuador (1529 km) - Protocolo de Paz, amistad y límites de Río de Janeiro
- ❖ Colombia (1506 km) - Tratado Salomón Lozano

Sur:

- ❖ Chile (169 km) - Tratado de Lima

Este:

- ❖ Brasil (2822 km) - Tratado Velarde Río Branco
- ❖ Bolivia (1047 km) - Tratado Osma Villazón

Oeste:

- ❖ Océano Pacífico (3080 km)

5. División política

Comprende cada una de las divisiones políticas administrativas en que se divide el país.



Región

Espacio geográfico con características similares tanto a nivel natural (relieve, hidrografía, fauna, flora, clima) como a nivel humano (político, económico, social, cultural).

Objetivos

Descentralización

El Perú presenta 25 regiones políticas, 24 departamentos, 194 provincias y 1831 distritos

División política

1. _____
2. _____
3. _____
4. _____
5. _____
6. _____
7. _____
8. _____
9. _____
10. _____
11. _____
12. _____
13. _____
14. _____
15. _____
16. _____
17. _____
18. _____
19. _____
20. _____
21. _____
22. _____
23. _____
24. _____
25. _____



6. Puntos notables

Región más extensa: Loreto
Región menos extensa: Callao
Más provincias (20): Ancash
Menos provincias (3): Lambayeque, Pasco, Moquegua
Región más occidental: Piura
Región más oriental: Madre de Dios
Región más boreal: Loreto
Región más austral: Tacna
Punto más alto: Huascarán (Ancash)
Punto más bajo: Bayóvar (Piura)
Punto más caluroso: Neshuya (Ucayali)
Punto más frío: Chuapalca (Tacna)
Punto más lluvioso: Quincemil (Cusco)

Isla más extensa: San Lorenzo
Volcán más alto: Coropuna
Nevado más hermoso: Alpamayo
Río más largo: Ucayali
Cañón más profundo: Cotahuasi
Mayor ancho costero: Piura
Menor ancho costero: Arequipa
Mayor litoral: Arequipa
Menor litoral: Moquegua
Netamente costero: Tumbes y Callao
Netamente andino: Huancavelica
Netamente Amazónico: Loreto, Ucayali, Madre de Dios.
Tres regiones naturales: La libertad

Retroalimentación

1. ¿Cuál es la extensión del territorio nacional?

2. ¿Cuántos departamentos limitan con el país de Ecuador?

3. Menciona los tres departamentos más grandes del Perú.

4. Menciona los tres departamentos más pequeños del Perú.

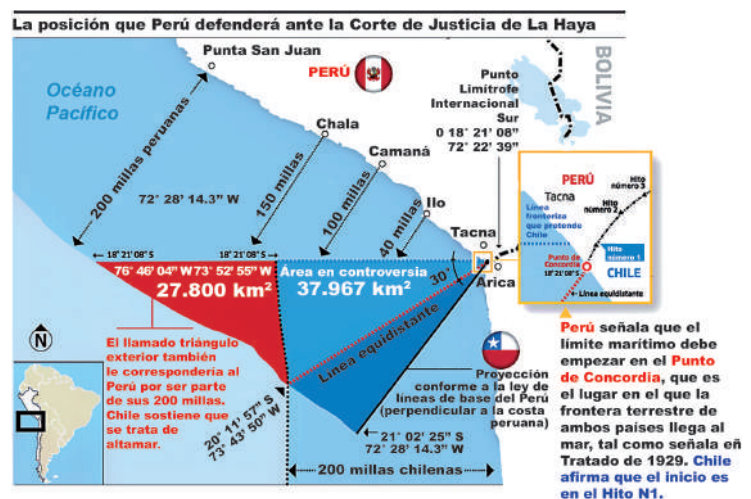
Trabajando en clase

La controversia de delimitación marítima Perú-Chile

La controversia de delimitación marítima entre Perú y Chile (formalmente el caso concerniente a la delimitación marítima entre la República del Perú y la República de Chile) es un diferendo planteado por la República del Perú a la República de Chile sobre la soberanía de una zona marítima de aproximadamente 37 900 km² en el océano Pacífico. Perú sostiene que la delimitación del límite marítimo entre ambos países está aún sin determinar, pues no habrían firmado un tratado específico de límites marítimos, mientras que Chile sostiene que no hay temas limítrofes pendientes entre ambos, afirmando que existen tratados internacionales vigentes sobre la materia.

El diferendo se refiere al área marítima comprendida entre el paralelo que cruza el punto donde termina la frontera terrestre entre Chile y el Perú en la línea de la Concordia (el «Hito n.º 1» según Chile y el «Punto Concordia» según el Perú) y la línea bisectriz a las perpendiculares a las costas chilenas y peruanas, formada por la superposición de las líneas de base de ambos países —que son sucesiones de puntos que determinan donde termina el borde costero y, en consecuencia, empieza el mar territorial propiamente tal—, que forma un trapecio de 67 139,4 km², de los cuales unos 38 000 km² son considerados como soberanos por Chile y respecto de los cuales el Perú pide una división equitativa (ver gráfico). También se incluye el estatus de un triángulo marino, ubicado al occidente del trapecio antes mencionado, de 28 471,86 km², que Chile considera alta mar, y el Perú parte de su dominio marítimo, por la proyección de sus líneas de base rectas.

Se suma a lo anterior, la disputa sobre un pequeño sector en tierra firme —de una superficie de 37 610 m² o 3,7 ha— derivada de la divergencia en relación al punto final de la frontera terrestre, e inicio de los límites marítimos entre ambos países, de acuerdo con el Tratado de Lima de 1929, que según el Perú se encuentra en la costa, en la orilla del mar («Punto Concordia» según el Tratado de Lima del 3 de junio de 1929), y que Chile considera que se encuentra 182,3 metros tierra adentro («Hito n.º 1» y «Orilla del mar» según el Acta de Lima del 5 de agosto 1930).



Responde a las preguntas:

1. ¿Cuál es la posición del Perú en el diferendo marítimo?

2. ¿Cuál es la posición de Chile ante la demanda de Perú?

3. ¿Cuánto es el área marítima en controversia?

4. ¿Dónde se encuentra el punto de la concordia según el Perú?

Verificando el aprendizaje

1. La frontera de límites del Perú que comprende a la mayor longitud de frontera natural es con el país de:

UNMSM 2009

- a) Brasil c) Chile e) Bolivia
b) Colombia d) Ecuador

2. ¿Cuál es límite norte del dominio marítimo del Perú?

UNMSM 2009

- a) Punta aguja
b) Paralelo de boca de capones
c) Cabo blanco
d) Paralelo del hito N° 1 de la Concordia
e) Punta Illescas

3. ¿Cuál es el río que sirve de límite entre Perú y Bolivia?

UNAC

- a) Ramis c) Putina e) Ilave
b) Suches d) Coata

4. De los 24 departamentos que forman el Perú, ¿Cuántos son fronterizos?

UNMSM 2002

- a) 9 c) 8 e) 6
b) 10 d) 7

5. ¿Qué departamento tiene mayor longitud de litoral?

UNMSM 1976

- a) Arequipa d) La Libertad
b) Piura e) Lima
c) Ancash

6. Es el único departamento del Perú en cuyo territorio encontramos costa, sierra y selva:

- a) Tumbes d) La Libertad
b) Piura e) Arequipa
c) Cajamarca

7. De los siguientes departamentos ¿Cuál no forma frontera con Loreto?

- a) Amazonas d) Ucayali
b) San Martín e) Cajamarca
c) Huánuco

8. Señale cuál de los siguientes departamentos, no constituye una capital departamental del Perú:

- a) Moyobamba d) Lima
b) Abancay e) Huaraz
c) Ferreñafe

9. El departamento más pequeño del Perú después de Tumbes es:

- a) Moquegua
b) Tacna
c) Pasco
d) Ancash
e) Lambayeque

10. Es el departamento peruano con mayor cantidad de provincias:

- a) Arequipa d) Ayacucho
b) Lima e) Ancash
c) Cusco