



EL CONTINENTE ASIÁTICO

Asia es el más grande de los seis continentes que constituyen la Tierra, abarcando aproximadamente una tercera parte de la superficie terrestre continental. Sus habitantes representan tres quintas partes de la población total del mundo.



I. Localización

Con respecto al: 30 mapa de Asia

❖ Ecuador terrestre

El continente asiático se ubica en el hemisferio norte, y solo un grupo de islas de gran extensión (Borneo Célebes, Sumatra) al sur de Asia se ubican entre los dos hemisferios, y otras más pequeñas se localizan al sur del Ecuador terrestre.

❖ Meridiano de Greenwich

Se localiza íntegramente en el hemisferio oriental.

❖ Divisiones imaginarias que atraviesan Asia

Atraviesan Asia tres divisiones imaginarias: el Ecuador terrestre, el círculo polar ártico y el trópico de Cáncer.

❖ Superficie: 44 614 000 km² (1.º en tamaño)

Puntos extremos de Asia

Septentrional: Cabo Celjuskin, Siberia, en Rusia, a 77° 40' latitud norte

Meridional: Cabo Boro, Malaca, en Malasia, a 01° 16' latitud norte

Oriental: Cabo Dezneva, Siberia, en Rusia, a 169° 40' longitud oeste

Occidental: Cabo Baba, en Turquía, a 26° 05' longitud este.



Límites de Asia

Norte: océano glacial ártico

Sur: océano Índico y al suroeste con el mar Rojo y mar Mediterráneo

Este: estrecho de Bering y el océano Pacífico

Oeste: Europa (montes Urales, río Ural, Montes Cáucaso y mar Negro)

Otros datos importantes de Asia

Población: 4020 millones de hab.

Densidad: 22 hab/ km².

Gentilicio: asiático

Idiomas: chino mandarín, hindú y árabe (más hablados)











Religión: budismo, islamismo, hinduismo, confucianismo, taoísmo, sintoísmo, judaísmo, animismo, etc.

Sabías que..?
Además de las cuatro islas principales de Japón, Hokkaidō, Honshu, Kyushu y Shikoku, el archipiélago asiático tiene alrededor de 3000 islas pequeñas, sumando un área total de 377 835 km²



División política

Nº	País	Capital
1	 Afganistán	Kabul
2	 Arabia Saudita	Riad
3	 Armenia	Ereván
4	 Azerbaiyán	Bakú
5	 Bangladés	Daca
6	 Bareín	Manama
7	 Birmania/Myanmar	Naipyidó
8	 Brunéi	Bandar Seri Begawan
9	 Bután	Timbu
10	 Camboya	Phnom Penh
11	 Catar	Doha
12	 China	Pekín
13	 Chipre	Nicosia
14	 Corea del Norte	Piongyang
15	 Corea del Sur	Seúl
16	 Emirados Arabes Unidos	Abu Dabi
17	 Filipinas	Manila
18	 Georgia	Tiflis
19	 India	Nueva Delhi
20	 Indonesia	Yakarta
21	 Irak	Bagdad
22	 Irán	Teherán
23	 Israel	Jerusalén
24	 Japón	Tokio
25	 Jordania	Amán
26	 Kazajistán	Astaná

27	 Kirguistán	Biskek
28	 Kuwait	Kuwait
29	 Laos	Vietnán
30	 Líbano	Beirut
31	 Maldivas	Malé
32	 Malasia	Kuala Lumpur
33	 Mongolia	Ulán Bator
34	 Nepal	Katmandú
35	 Omán	Mascate
36	 Pakistán	Islamabad
37	 Rusia	Moscú
38	 Singapur	Singapur
39	 Siria	Damasco
40	 Sri Lanka	Colombo
41	 Tayikistán	Dusambé
42	 Tailandia	Bangkok
43	 Timor Oriental	Dili
44	 Turquía	Ankara
45	 Turkmenistán	Asjabad
46	 Uzbekistán	Taskent
47	 Vietnam	Hanói
48	 Yemen	Saná

Los 10 Estados más grandes de Asia

1. Rusia: 12 523 400 km²
2. China: 9 596 960 km²
3. India: 3 287 590 km²
4. Kazajstán: 2 717 900 km²
5. Arabia saudita: 2 149 690 km²
6. Indonesia: 1 919 440 km²
7. Irán: 1 648 195 km²
8. Mongolia: 1 564 116 km²
9. Pakistán: 803 940 km²
10. Turquía: 779 993 km²



Ciudad de Tokio (mayor urbe mundial)

Datos políticos notables de Asia

- País más extenso: Rusia
- País menos extenso: Maldivas
- País con mayor número de fronteras: China (14 países)
- País más poblado: China
- País menos poblado: Maldivas
- País con mayor PBI: China
- País con menor PBI: Timor Oriental



Ciudad milenaria de Pekín (China)

Datos geomorfológicos notables de Asia

- Cordillera más alta y larga: Himalaya
- Cordillera limítrofe entre Asia y Europa: Montes Urales
- Punto más alto: monte Everest
- 2.º punto más alto: K2 (GodwinAusten)
- Punto más bajo: depresión del mar Muerto
- Meseta más extensa: Siberia central
- Meseta más alta: Tíbet
- Volcán más bello: Fuji



Volcán Fuji

Retroalimentación

1. Menciona los cinco Estados más grandes de Asia.

2. ¿Cuáles son los límites de Asia por el norte y sur?

3. Menciona los países que se encuentran en los puntos extremos de Asia.

4. ¿Cuánto es la superficie del continente asiático?

Trabajando en clase

El país más habitado del mundo

China es el país más poblado de la Tierra: ronda los 1300 millones de habitantes, lo que equivale a un tercio de la población de Asia y una quinta parte del total mundial.

En la actualidad, el crecimiento de la población es escaso: el índice de fecundidad es de 1,8 hijos por mujer. La reducción del número de nacimientos se debe al control de la natalidad en las últimas décadas. En 1979, cuando el país casi alcanzó los 1000 millones de habitantes, las autoridades decidieron poner en práctica una dura política antinatalista, con el fin de impulsar el desarrollo económico, optimizar los recursos y elevar el bienestar de la población. Se inició entonces una campaña bajo el eslogan «una pareja, un hijo» y aquellas familias que tenían más de un hijo eran castigadas con el pago de multas, a veces equivalentes a más de tres años de sueldo de los padres, y, en algunos casos, incluso se sancionaba con el despido laboral.

El objetivo principal de esta política antinatalista se ha cumplido y desde 2002 es más moderada y permisiva, fue abolida de las grandes ciudades en 2004. En la actualidad, la tasa de crecimiento de la población china es del 0,7%.

Pero ha tenido también otras repercusiones, principalmente un fuerte desequilibrio entre la población masculina y la femenina, que condena a la soltería a miles de hombres. Por otra parte, se asiste a un rápido envejecimiento de la población. Además, se han llevado a cabo millones de esterilizaciones y abortos forzosos; se ha producido abandono de bebés, tráfico de niños y disimulos familiares, pues los padres esconden a los hijos para no ser multados. Se calcula también que más de 20 millones de niñas han sido sacrificadas por padres que deseaban un varón.

1. ¿En qué década los chinos decidieron poner en práctica una política antinatalista?

2. ¿Qué decía el eslogan con el que se inició la política antinatalista?

3. ¿Qué castigo recibían aquellos padres que tenían más de un hijo?

4. ¿Qué consecuencias o repercusiones ha generado esta medida en el país oriental de Asia?

Verificando el aprendizaje

1. La ciudad de Kuala Lumpur es la capital de _____.
 - a) Camboya
 - b) Indonesia
 - c) Brunei
 - d) Malasia
 - e) Maldivas
2. La capital de Vietnam es:
 - a) Ankara
 - b) Hanói
 - c) Manila
 - d) Timbu
 - e) Dacca
3. Señala en cuál de los siguientes países de Asia se ubica el río más largo.
 - a) China
 - b) Rusia
 - c) Israel
 - d) Corea
 - e) India
4. La isla más extensa de Asia se llama:
 - a) Ceilán
 - b) Honshu
 - c) Borneo
 - d) Sri Lanka
 - e) Singapur
5. Es el punto más bajo del continente asiático:
 - a) Mar Caspio
 - b) Fosa mariana
 - c) Kamchatka
 - d) Tíbet
 - e) Mar Muerto
6. No es una isla de Japón:
 - f) Célebes
 - g) Honshu
 - h) Hokkaido
 - i) Shikoku
 - j) Kyushu
7. La cordillera más alta de Asia se llama:
 - a) Kuenlun
 - b) Indokush
 - c) karakorun
 - d) Himalaya
 - e) Tíbet
8. Son los tres Estados más extensos de Asia:
 - a) Rusia, India, Mongolia
 - b) Rusia, Irak, Laos
 - c) Rusia, Líbano, China
 - d) Rusia, Pakistán, Filipinas
 - e) Rusia, China, India
9. Es el país más pequeño de Asia:
 - a) Emiratos Árabes Unidos
 - b) Camboya
 - c) Vietnam
 - d) Maldivas
 - e) Singapur
10. No presenta relación entre país y su respectiva capital.
 - a) Irán – Teherán
 - b) Corea del sur – Seúl
 - c) Afganistán – Jerusalén
 - d) Pakistán – Islamabad
 - e) Turquía – Ankara