



# EJERCICIOS DE ÁNGULOS EN LA CIRCUNFERENCIA

### ÁNGULOS ASOCIADOS

Son aquellos ángulos que se relacionan con la circunferencia por su ubicación. Además, se sabe que la medida de los ángulos y los arcos de la circunferencia cumplen con determinadas ecuaciones o fórmulas.

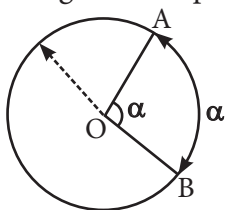
#### 1. Ángulo central

Es aquel ángulo cuyo vértice es el centro de la circunferencia y sus lados son dos radios cualesquiera.

$\angle AOB$  es un ángulo central donde  $\overline{OA}$  y  $\overline{OB}$  son radios y  $O$  es el centro de la circunferencia.

$\widehat{AB}$  es un arco de la circunferencia.

Luego, se cumple para todo ángulo central:



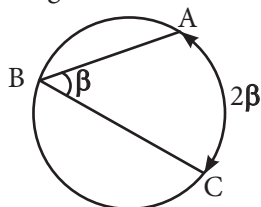
$$m\angle AOB = m\widehat{AB} = \alpha$$

#### 2. Ángulo inscrito

Es aquel ángulo formado por dos cuerdas, cuyo vértice es un punto de la circunferencia (aférente)

$\angle ABC$ , inscrito en la circunferencia de centro  $O$ , donde  $\overline{AB}$  y  $\overline{BC}$  son cuerdas de la circunferencia y el punto  $B$  pertenece a la circunferencia.

Luego, para el ángulo inscrito, se cumple:



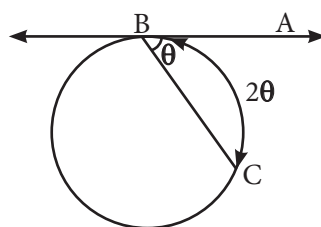
$$m\angle ABC = \frac{m\widehat{AC}}{2} \text{ o } 2m\angle ABC = m\widehat{AC}$$

#### 3. Ángulo semiinscrito

Es aquel ángulo formado por una recta tangente a la circunferencia y una cuerda que pasa por el punto de tangencia. Sea la recta  $\mathcal{L}$  tangente,  $B$  es el punto de tangencia y  $\overline{BC}$  es una cuerda de la circunferencia.

El  $\angle ABC$  es un ángulo semiinscrito. Además,  $\widehat{BC}$  es el que determina la cuerda en la circunferencia.

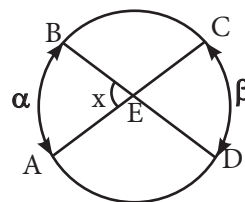
Luego, para el ángulo semiinscrito se cumple:



$$m\angle ABC = \frac{m\widehat{BC}}{2} \text{ y } 2m\angle ABC = m\widehat{BC}$$

#### 4. Ángulo interior

Es aquel ángulo formado por dos cuerdas secantes que se cortan en un punto de la región interior de la circunferencia.



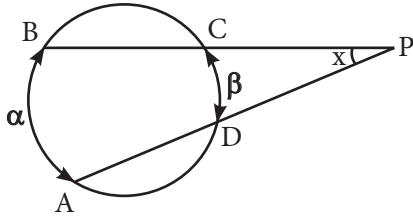
En todo ángulo interior, se cumple:

$$m\angle ABC = x; m\widehat{AB} = \alpha; m\widehat{CD} = \beta$$

$$x = \frac{\alpha + \beta}{2}$$

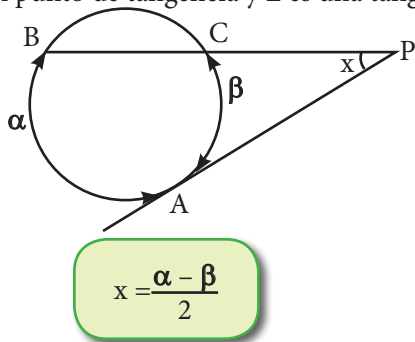
## 5. Ángulo exterior

Es aquel ángulo ubicado en la región externa de la circunferencia.

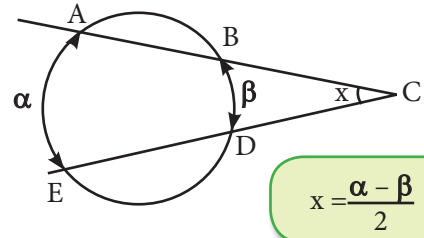


Se puede formar:

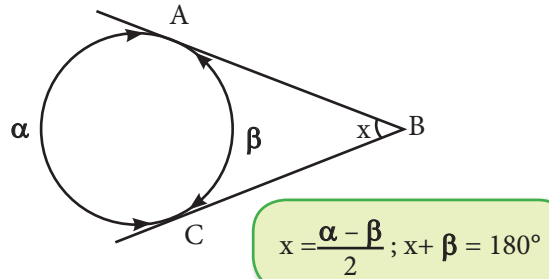
- ❖ Por la intersección de una recta tangente y una recta secante a la circunferencia, donde A es un punto de tangencia y L es una tangente.



- ❖ Por la intersección de dos rectas secantes a la circunferencia.



- ❖ Por la intersección de dos rectas tangentes a la circunferencia.

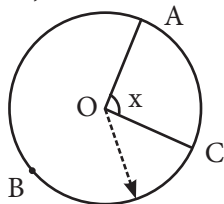


(A y C: puntos de tangencia)

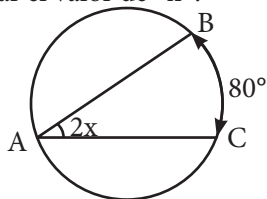
## Trabajando en clase

### Integral

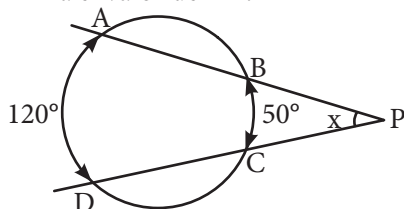
1. Si  $m\widehat{ABC} = 250^\circ$ , calcula «x».



2. Determinar el valor de «x».

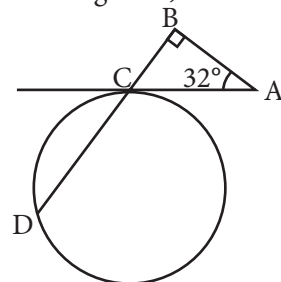


3. Determina el valor de «x».



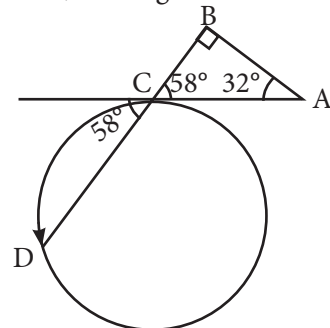
### PUCP

4. Si C es punto de tangencia, calcula  $m\widehat{CD}$ .



**Resolución:**

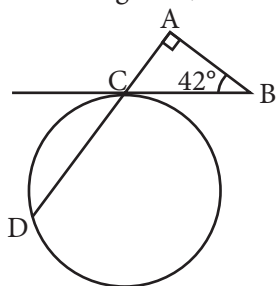
Piden  $m\widehat{CD}$ , en la figura tenemos:



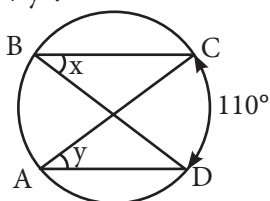
Luego  $m\widehat{CD} = 2m\angle ECD$

$$m\widehat{CD} = 2(58^\circ) \rightarrow m\widehat{CD} = 116^\circ$$

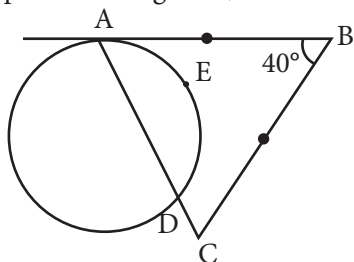
5. Si C es el punto de tangencia, calcula  $m\widehat{CD}$ .



6. Calcula «x + y».

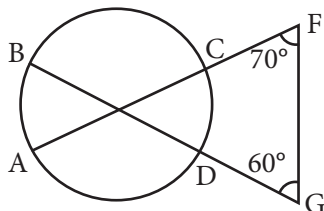


7. Si A es punto de tangencia, calcula  $m\widehat{AED}$ .



### UNMSM

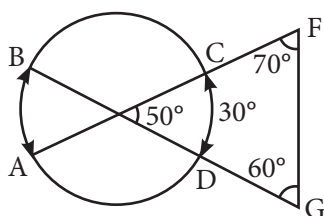
8. Calcula  $m\widehat{AB}$ ; si  $m\widehat{CD} = 30^\circ$ .



Resolución:

Piden:  $m\widehat{AB}$

En la figura, tenemos:

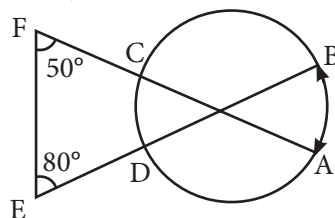


$$\text{Luego, } 50^\circ = \frac{m\widehat{AB} + m\widehat{CD}}{2}$$

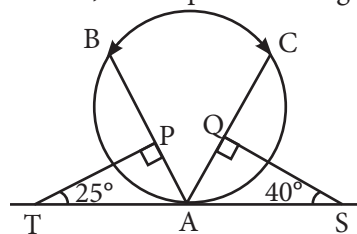
$$100^\circ = m\widehat{AB} + 30^\circ$$

$$m\widehat{AB} = 70^\circ$$

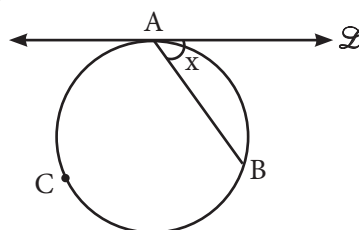
9. Calcula  $m\widehat{AB}$ , si  $m\widehat{CD} = 20^\circ$ .



10. Calcula  $m\widehat{BC}$ , si A es punto de tangencia.

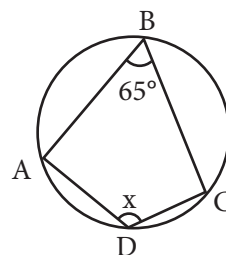


11. Calcula «x» si  $m\widehat{ABC} = 280^\circ$ . (A: punto de tangencia).



### UNI

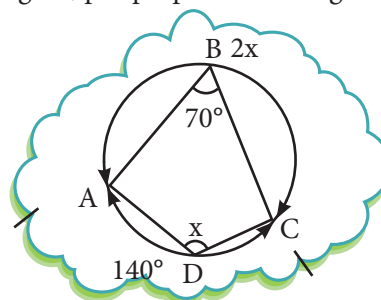
12. Determina el valor de «x».



Resolución:

Piden: «x»

En la figura, por propiedad del ángulo inscrito.



Luego, tenemos:

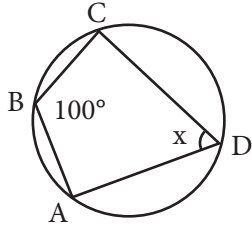
Medida angular de la circunferencia =  $360^\circ$

$$2x + 140^\circ = 360^\circ$$

$$2x = 220^\circ$$

$$x = 110^\circ$$

13. Encuentra el valor de «x».



14. Calcula «x» si B y E son puntos de tangencia.

